

















ZAJĘCIA ROZWIJAJĄCE

KLASA 3

24 kwietnia 2020 r. (piątek)

ZADANIE 1.

Jaką liczbę należy wpisać w miejsce znaku zapytania?

				28
				?
				23
				21
19	24	26	17	

ZADANIE 2.

				= 80
				= 140
				= 210
				= 300
				= ?

ZADANIE 3.

Tatuś zapalił świecę, a za 3 minuty następną. Ile czasu będzie jasno w pokoju, jeśli każda świeca pali się 10 minut?

ZADANIE 4.

W domu zgasło światło. Mamusia znalazła 4 świeczki, które jedną zapalką zapalił tatuś. Ile czasu będzie jasno w domu, jeśli pojedyncza świeczka pali się 11 minut?